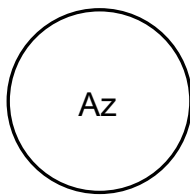
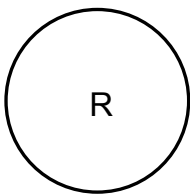
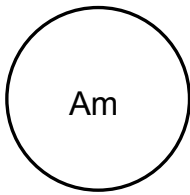


Colorea las fichas según la clave



Clave para las fichas:
 Am = Amarillo = 100 (1 Centena)
 R = Rojo = 10 (1 Decena)
 Az = Azul = 1 (1 Unidad)

ACTIVIDADES

1. Colorea las fichas y escribe cuánto tiene cada niño. ¿Quién tiene más valor en sus fichas? _____


Pepe

Lola


Manolo

Beto


2. Dibuja y colorea las fichas según su número.



534



328



871



130

3. Contesta la siguiente tabla, observa el ejemplo.

Número	Cifra de la Centena	Cifra de la Decena	Cifra de la Unidad
426	4 C	2 D	6 U
589			
362			
614			
892			
233			
98			

4. Escribe en el rectángulo la palabra CENTENA, DECENA O UNIDAD, de acuerdo con la posición que ocupa la cifra subrayada en cada cantidad.

2 <u>4</u> 5	<input type="text"/>	12 <u>4</u>	<input type="text"/>	<u>4</u> 55	<input type="text"/>
4 <u>8</u> 9	<input type="text"/>	<u>3</u> 17	<input type="text"/>	94 <u>7</u>	<input type="text"/>
5 <u>8</u> 6	<input type="text"/>	<u>2</u> 01	<input type="text"/>	<u>1</u> 67	<input type="text"/>
<u>7</u> 81	<input type="text"/>	6 <u>4</u> 3	<input type="text"/>	4 <u>3</u> 1	<input type="text"/>
9 <u>3</u> 1	<input type="text"/>	<u>1</u> 81	<input type="text"/>	<u>5</u> 01	<input type="text"/>
4 <u>0</u> 8	<input type="text"/>	7 <u>2</u> 4	<input type="text"/>	8 <u>4</u> 3	<input type="text"/>





FICHAS DE COLORES



Esc. Prim. Vicente Guerrero
Los Placeres del Oro, Gro.

Resuelve las operaciones mentalmente y colorea para descubrir el dibujo oculto

Naranja
 $10D + 3U = \square$

Naranja
 $4C + 11D = \square$

Amarillo
 $1C + 15D = \square$

Naranja
 $3C + 12D = \square$

Amarillo
 $3D + 12U = \square$

Naranja
 $5D + 20U = \square$

Amarillo
 $2C + 3D = \square$

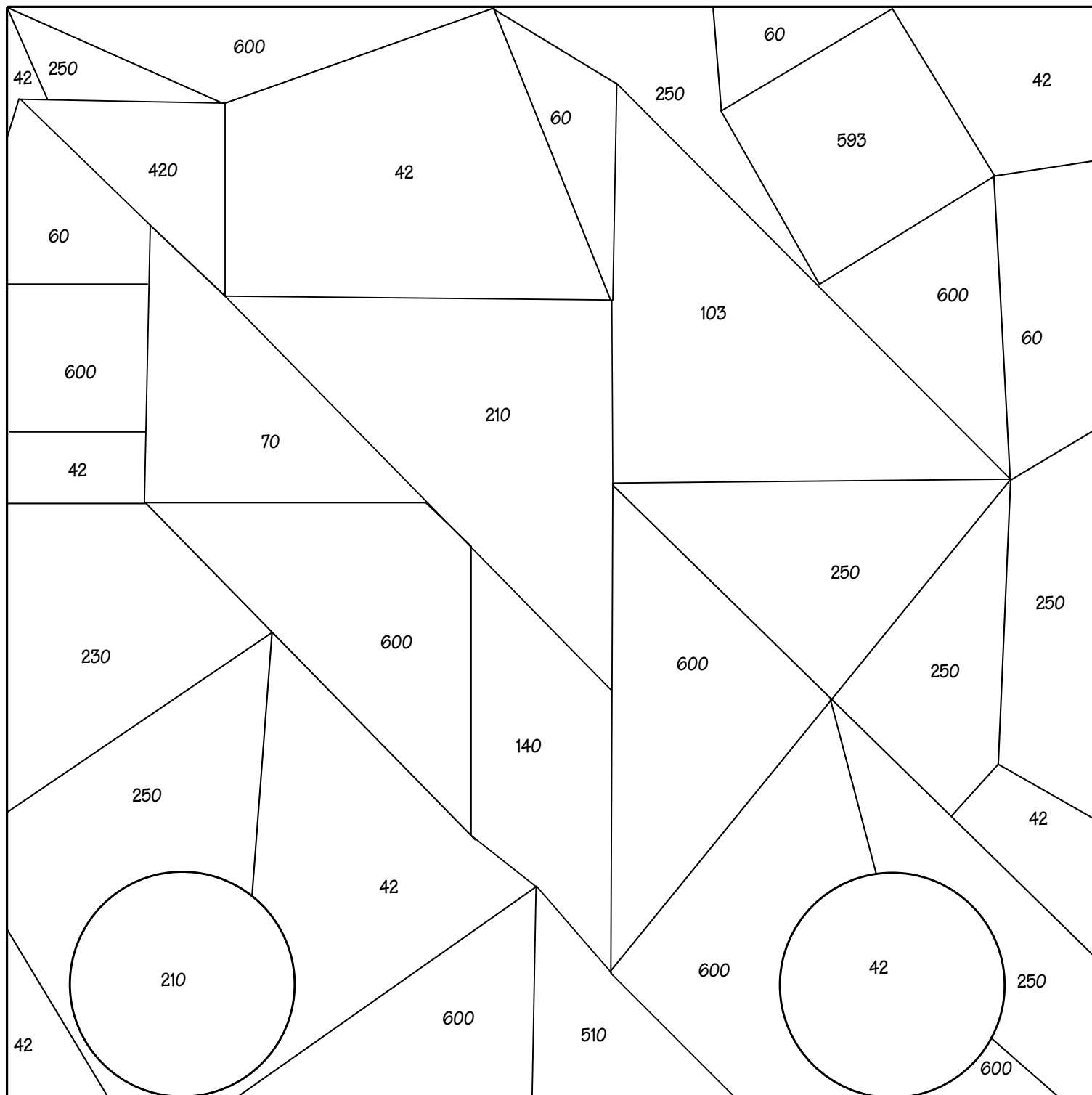
Amarillo
 $5C + 10D = \square$

Naranja
 $20D + 10U = \square$

Amarillo
 $1D + 50U = \square$

Naranja
 $13D + 10U = \square$

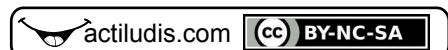
Naranja
 $4C + 18D + 13U = \square$



POR UN MODELO EDUCATIVO
Sin memorizar. sin gritos. sin miedo...
más humano y SIN EXÁMENES
Mtro. Jesús González Molina

gonzalez_molina79@hotmail.com

rosafemandezsalamancainfantil.blogspot.mx



Resuelve las operaciones mentalmente y colorea el robot

Gris

$2D + 15U = \square$

Verde claro

$1C + 32U = \square$

Amarillo

$2D + 15D = \square$

Verde oscuro

$11D + 20U = \square$

Café

$1U + 10U = \square$

Rojo

$1C + 6D = \square$

Negro

$15D + 1U = \square$

Azul

$1C + 2D + 2U = \square$

Naranja

$1C + 5D + 17U = \square$

Celeste

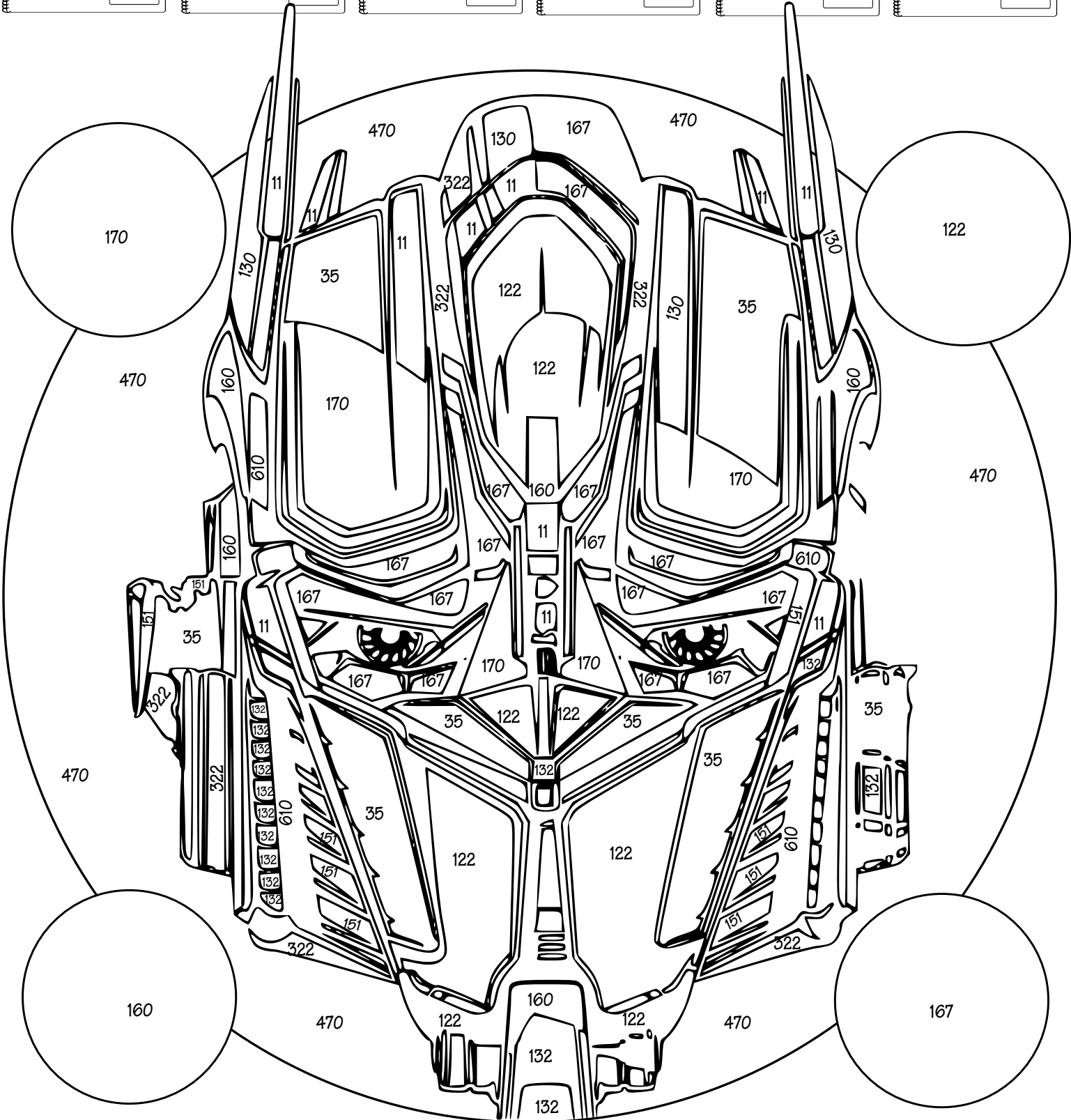
$3C + 17D = \square$

Rosa

$4C + 21D = \square$

Morado

$3C + 22U = \square$



Reconocemos las centenas, las decenas y las unidades en los números de tres cifras.

Verde claro	Verde oscuro	Gris	Café	Amarillo	Rojo	Naranja	Morado	Negro
88	401	234	110	421	312	98	306	139

Azul	Celeste
17	561

Colorea El Robot de acuerdo a las centenas, unidades y decenas de cada cantidad.

